

મૂલ્યાંકન કસોટી – ૨

ધોરણ : ૧

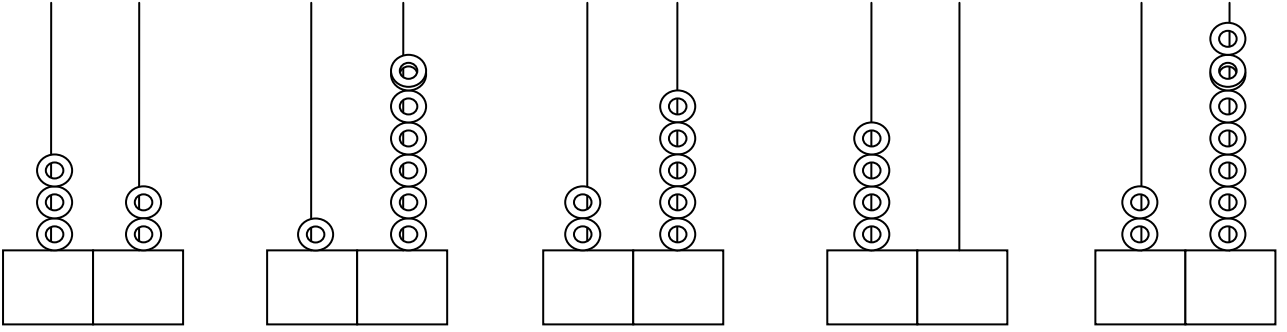
વિષય : ગણિત

ગુણ : ૫૦

નામ :

પ્રશ્ન : ૧ મણકાઘોડીના મણકા ગણી સંખ્યા બનાવો.

ગુણ : ૫



પ્રશ્ન : ૨ ખૂટતી સંખ્યા લખો

ગુણ : ૧૫

- (૧) ૩૭, , , , ૪૧
- (૨) ૨૪, , , , ૨૮
- (૩) ૧૫, , , , ૧૯
- (૪) ૪૦, , , , ૪૪
- (૫) ૩૧, , , , ૩૫

પ્રશ્ન : ૩ ખૂટતા વારના નામ લખો.

ગુણ : ૧૦

- (૧) રવિવાર
- (૨)
- (૩)
- (૪)
- (૫)
- (૬)
- (૭) શનિવાર

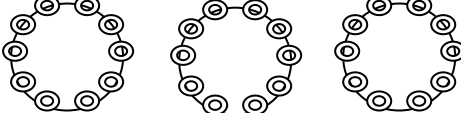

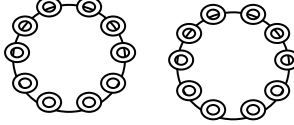

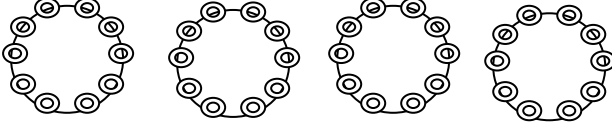

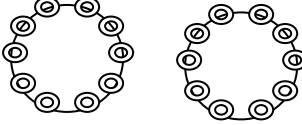

પ્રશ્ન : ૪ ઊતરતા ક્રમમાં સંખ્યા લખો.

ગુણ : ૧૦

૫૦	૪૦	૩૦	૨૦	૧૦

પ્રશ્ન : ૫ મણકા ગણી સંખ્યા લખો.

ગુણ : ૧૦

- (૧)  
- (૨)  
- (૩)  
- (૪)  
- (૫) 