



મૂલ્યાંકન કસોટી : ૨

દોરણ :- ૧૫

કુલગુણ :- ૫૦

વિષય :- ગણિત

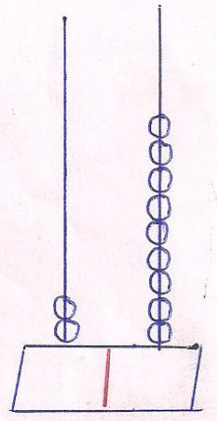
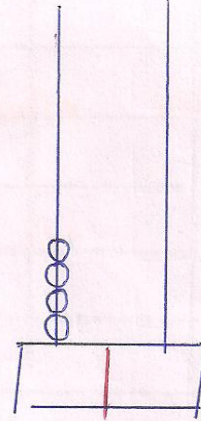
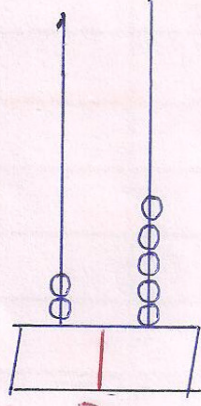
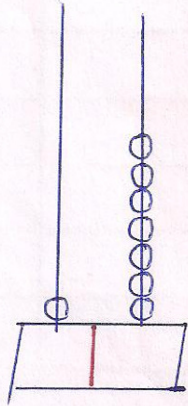
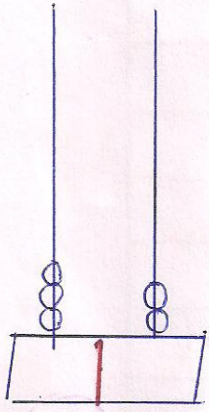
પ્રજ્ઞાવર્ગ

વસોદગામ પા - શાળા

પ્રશ્ન : ૧

મણકાધોડીના મણકા ગણી સંખ્યા બનાવો

(૫)



પ્રશ્ન : ૨

પૂરતી સંખ્યા લખો

(૧૫)

(૧) ૩૭, _____, _____, _____

(૨) ૨૪, _____, _____, _____

(૩) ૧૮, _____, _____, _____

(૪) ૪૦, _____, _____, _____

(૫) ૩૯, _____, _____, _____

પ્રશ્ન : ૩

પૂરના વારના નામ લખો

(૨૦)

(૧) રવિવાર

(૨) _____

(૩) _____

(૪) _____

(૫) _____


(૬) શનિવાર

20

40	30	30	20	20
----	----	----	----	----

મણિકા ગાંધી સંખ્યા ૧૭૫૦.

$\langle 9 \rangle$



27



(3)



20



24



25/12/84